










Plan de travail CP

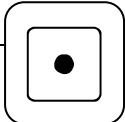
F R A N C A I S	LECTURE		Lire des mots nouveaux	
	LECTURE		Lire pour comprendre	
	ECRITURE		Respecter les codes de l'écriture	
	PHONOLOGIE		Le son « z »	
	REDACTION		Produire une phrase cohérente	
M A T H S	CALCUL		Additions	
	GEOMETRIE		Tracé à la règle + quadrillage	
	PROBLEME		Résoudre un problème	

Mon programme



Signature des parents

CALCUL



Calcule ces additions .

$7 + 5 = \underline{\quad}$

$8 - 2 = \underline{\quad}$

$10 + 5 = \underline{\quad}$

$1 + 10 = \underline{\quad}$

$9 - 5 = \underline{\quad}$

$10 + 9 = \underline{\quad}$

$3 + 3 = \underline{\quad}$



$3 - 2 = \underline{\quad}$

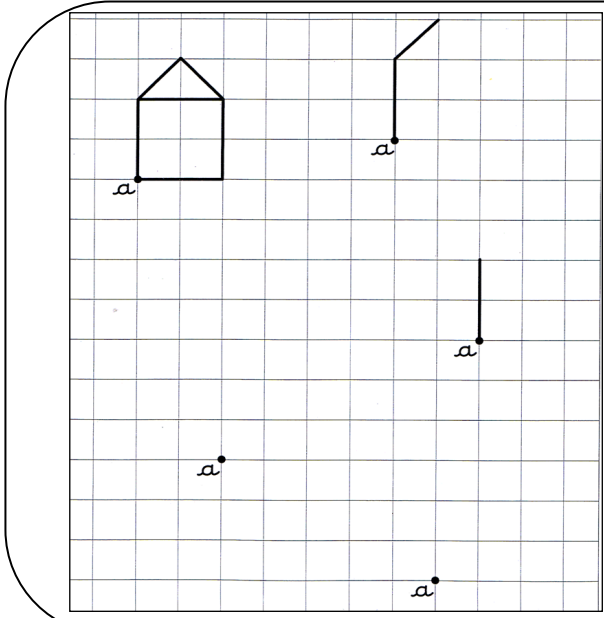
$10 + 4 = \underline{\quad}$

ESPACE



Reproduis ce dessin





GEOMETRIE



**Reproduis
comme le modèle**

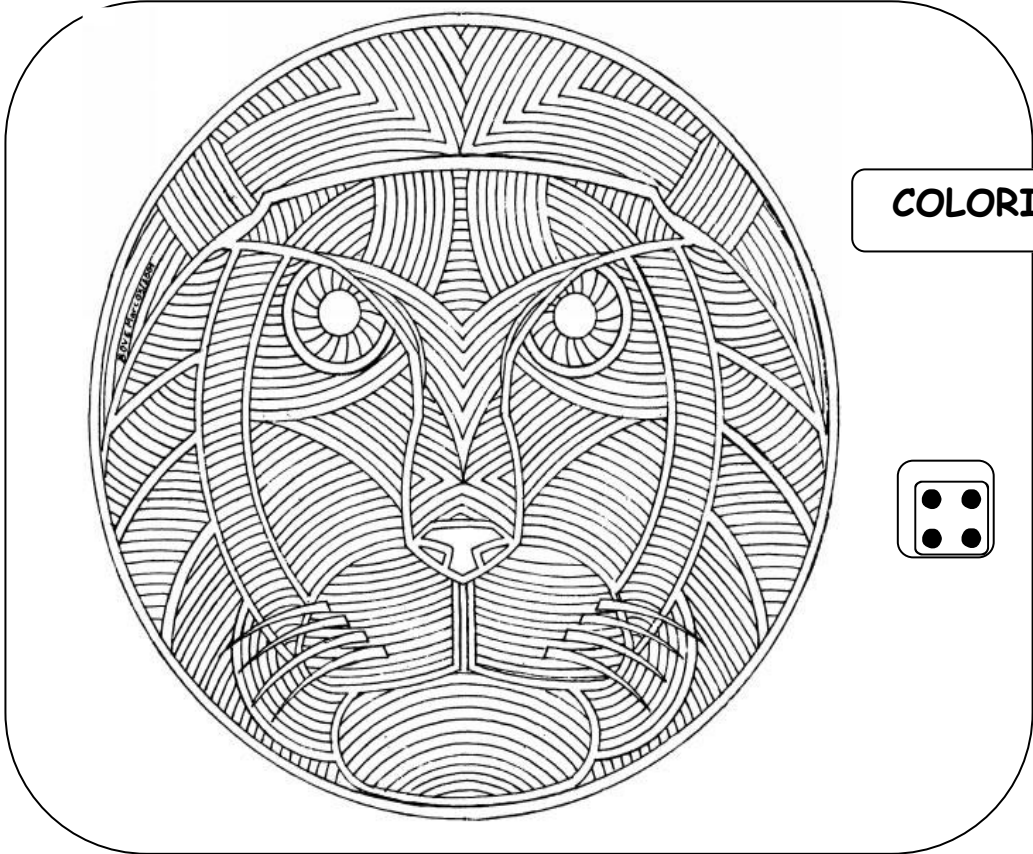
LECTURE



Ecris le mot sous chaque image



*un arrosoir
une cerise
un zèbre
du raisin
un trésor
une gazelle*



COLORIAGE

