

Chères familles,

Nous attendons toujours, si vous le pouvez, que vous nous fassiez parvenir **par mail** les travaux de vos enfants.

Bon courage à toutes et tous,

Mme Meyer et M. Corneec



Devinette à dire à quelqu'un :

Entraîne-toi plusieurs fois avant de la lire à quelqu'un

Que dit un citron quand il braque une banque ?

Pas un zeste !



Numération :

Écris les nombres qui correspondent

1 centaine 2 dizaines et 3 unités = ?

23 dizaines et 5 unités = ?

Calcul mental :

Calcule le plus rapidement possible sans poser :

$79 - 10 = \dots$ $99 - 10 = \dots$ $153 - 10 = \dots$ $280 - 10 = \dots$ $657 - 10 = \dots$

Géométrie :

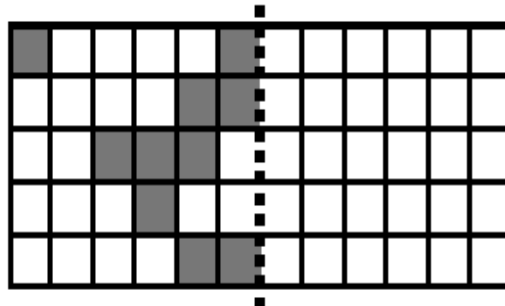
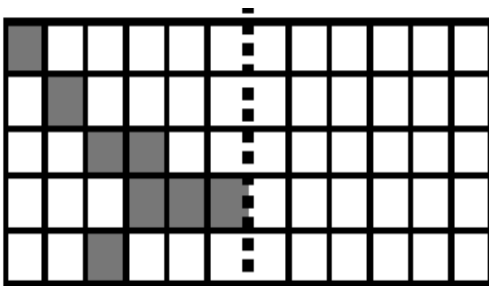
Travaille à la règle et au crayon de papier

Trace la figure symétrique par rapport à l'axe :

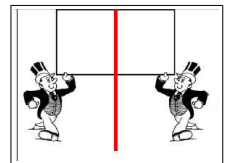



Niv1

Niv2



Deux figures sont symétriques si, lorsque je plie le long de l'axe de symétrie, elles se superposent parfaitement. C'est comme quand je regarde dans un miroir.





« Qui est-ce ? »

Vous allez écrire et dessiner votre portrait pour créer un jeu de devinettes.

Lundi, chacun écrira des listes d'adjectifs pour préparer l'écriture du portrait.

Mardi, chacun dessinera son portrait et écrira un petit texte sur ce qu'il aime.

Jeudi, chacun écrira un petit texte pour se décrire physiquement.

Vendredi, chacun finalisera son texte et son portrait.

Aujourd'hui

Tu vas faire, pour chaque partie du corps, une liste de 3 adjectifs permettant de décrire la forme, la couleur, la taille... de cette partie :

- 3 adjectifs pour décrire les **cheveux** :
- 3 adjectifs pour décrire les **yeux** :
- 3 adjectifs pour décrire les **nez** :
- 3 adjectifs pour décrire les **bouches** :
- 3 adjectifs pour décrire la **silhouette** générale :